

**Sciences Economiques et Sociales**  
**Seconde – Lycée Fustel de Coulanges 2012/2013**

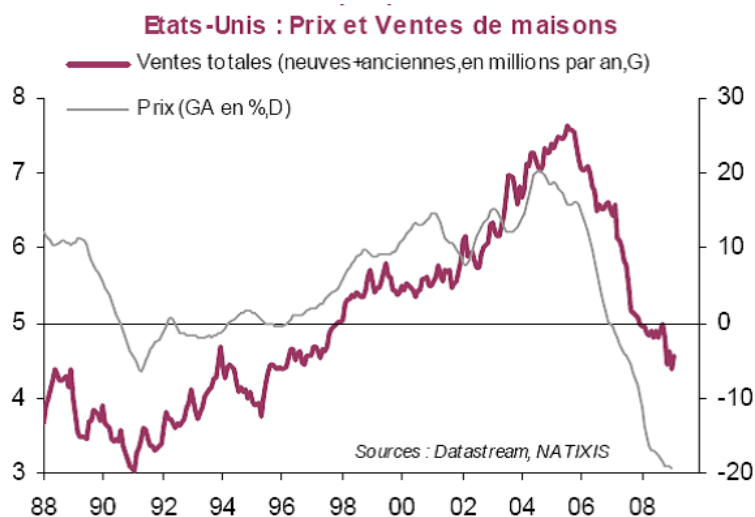
Pour me contacter : marjorie.galy@wanadoo.fr  
Votre cahier de texte en ligne : <http://www.toilesees.org>

**Question 1**  
**Comment les krachs boursiers menacent-ils la croissance et l'emploi ?**

**1- Pas de krach sans bulle**

**Krach** : Effondrement brutal des cours (prix) d'un ou plusieurs marchés financiers provoqué par des comportements de panique des détenteurs d'actions.

**Document 1 :**



**Document 2 :** Une **bulle spéculative** est le résultat d'une augmentation auto-entretenu et hors norme du prix d'un bien faisant l'objet de spéculation (actions, logements, or, blé...). La formation d'une bulle est due aux comportements moutonniers de spéculateurs qui achètent alors que le prix est déjà élevé et s'accroît rapidement, espérant ainsi réaliser rapidement un gain en revendant une fois que le prix aura suffisamment augmenté. Ces anticipations de hausse alimentent la hausse du prix, attirant de nouveaux acheteurs qui vont faire augmenter encore le prix etc...

- 1- (Doc1) Présentez l'évolution des ventes de maisons aux Etats-Unis de 1988 à 2009.
- 2- (Doc1) Faites une phrase précise et intelligible avec chacun des points hauts des 2 courbes.
- 3- (Doc. 1 & 2) Sur quelle période s'est formée une bulle immobilière ?
- 4- (Doc1) Qu'est-ce qui survient le plus souvent à l'issue de la formation d'une bulle spéculative ? Quelles en ont été les conséquences pour l'immobilier aux Etats-Unis ?

**2- Des krachs aux crises**

**Document 3 : Opinion des ménages sur le chômage (INSEE)**



**Document 4 : Évolution de la consommation et du taux d'épargne des ménages (INSEE)**

%	2004	2005	2006	2007	2008	2009	2010
Dépenses de consommation	1,8	2,5	2,2	2,3	0,5	0,6	1,3
Taux d'épargne	15,7	14,7	14,9	15,4	15,5	16,5	16,0

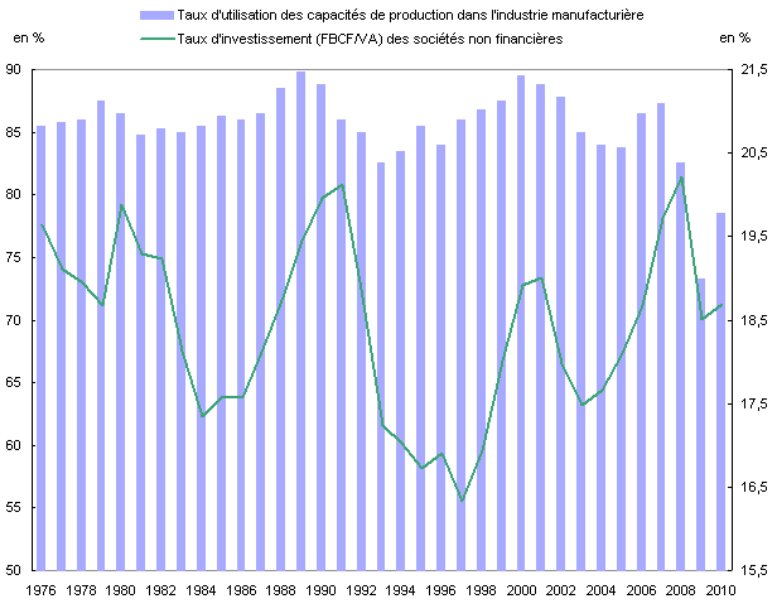
*Clés de lecture : Doc3 Une courbe ascendante (↗) indique que de plus en plus de ménages sont pessimistes quant à l'évolution du taux de chômage dans les mois qui viennent.*

*Doc4 : En 2010, les dépenses de consommation des ménages résidents en France se sont accrues de 1,3% par rapport aux dépenses de consommation de 2009. En 2010, les ménages résidents en France épargnaient en moyenne 16% de leur revenu disponible.*

- 3- (Doc3 et 4) : Comment les ménages ont-ils réagi suite au krach boursier dit des *subprimes* qui a eu lieu aux Etats-Unis en fin d'année 2008 ? Utilisez les données pertinentes pour étayer votre réponse.
- 4- Formulez des hypothèses sur les raisons de ces changements d'opinion et de comportements.
- 5- Quels effets peuvent avoir ces changements sur l'économie française ?

**Document 5 :**

**Taux d'investissement et d'utilisation des capacités de production**



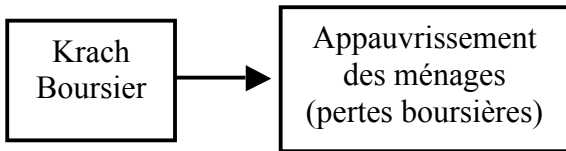
Champ : France.  
Source : Insee, comptes nationaux - base 2005.

6- Qu'est-ce qui peut conduire les entreprises à réduire leur taux d'utilisation des capacités de production (comme en 2008 et 2009) ?

7- Quelles sont les conséquences, sur l'emploi, d'une baisse du taux d'utilisation des capacités productives et du taux d'investissement des entreprises ? Détaillez les effets pour chacun.

**Synthèse en groupe de 2 ou 3 élèves :**

Remettez dans l'ordre et reliez par des flèches les étiquettes suivantes afin de schématiser le passage des krachs boursiers aux crises économiques. (Découpez les 10 étiquettes en bas de page afin de tester plusieurs schémas avant de les coller et relier par des flèches).



↘ confiance dans l'avenir	↗ épargne de précaution	↗ chômage	↘ vente et production de machines
↘ Investissement	↗ licenciements	↘ taux d'utilisation des capacités productives	↘ ventes des entreprises
↘ production	↘ consommation		